



☆ ИСТАКНИ ТАЧКЕ ПРЕСЕКА КРУЖИЋЕМ И ОЗНАЧИ ИХ СЛОВОМ.



☆ ИСТАКНИ ТАЧКЕ ПРЕСЕКА КРУЖИЋЕМ И ОЗНАЧИ ИХ СЛОВОМ.

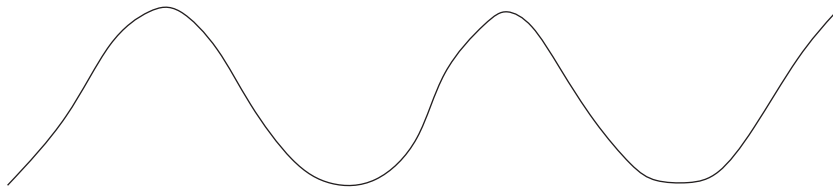


☆ У СВЕСЦИ НАЦРТАЈ ЈЕДНУ ПРАВУ И ЈЕДНУ КРИВУ ЛИНИЈУ, КОЈЕ ИМАЈУ ЗАЈЕДНИЧКУ ТАЧКУ **A**

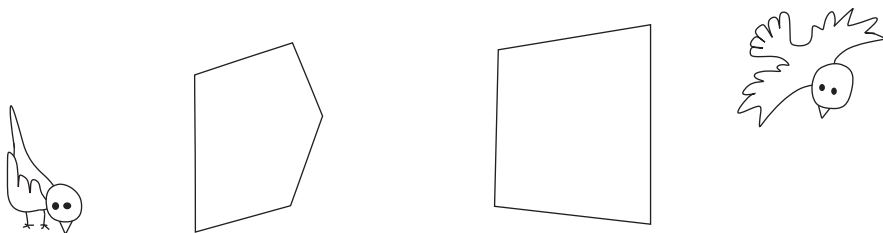
☆ У СВЕСЦИ НАЦРТАЈ ДВЕ КРИВЕ ЛИНИЈЕ КОЈЕ СЕ СЕКУ У ВИШЕ ТАЧАКА.

☆ ПОВУЦИ ТРИ ПРАВЕ ЛИНИЈЕ ТАКО ДА:

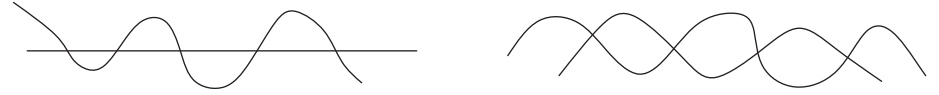
- *ЈЕДНА ПРАВА ПРЕСЕЦА КРИВУ У ЈЕДНОЈ ТАЧКИ
- *ДРУГА ПРАВА ПРЕСЕЦА КРИВУ ЛИНИЈУ У ДВЕ ТАЧКЕ
- *ТРЕЋА ПРАВА ПРЕСЕЦА КРИВУ У ТРИ ТАЧКЕ




☆ ТАЧКЕ ПРЕСЕКА ПРАВИХ ЛИНИЈА ОЗНАЧИ КРУЖИЋЕМ И ОБЕЛЕЖИ СЛОВОМ.



☆ ИСТАКНИ ТАЧКЕ ПРЕСЕКА КРУЖИЋЕМ И ОЗНАЧИ ИХ СЛОВОМ.



☆ ИСТАКНИ ТАЧКЕ ПРЕСЕКА КРУЖИЋЕМ И ОЗНАЧИ ИХ СЛОВОМ.

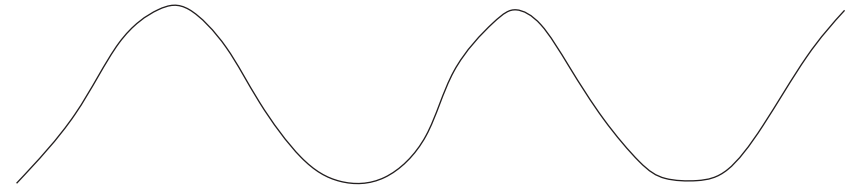


☆ У СВЕСЦИ НАЦРТАЈ ЈЕДНУ ПРАВУ И ЈЕДНУ КРИВУ ЛИНИЈУ, КОЈЕ ИМАЈУ ЗАЈЕДНИЧКУ ТАЧКУ **A**

☆ У СВЕСЦИ НАЦРТАЈ ДВЕ КРИВЕ ЛИНИЈЕ КОЈЕ СЕ СЕКУ У ВИШЕ ТАЧАКА.

☆ ПОВУЦИ ТРИ ПРАВЕ ЛИНИЈЕ ТАКО ДА:

- *ЈЕДНА ПРАВА ПРЕСЕЦА КРИВУ У ЈЕДНОЈ ТАЧКИ
- *ДРУГА ПРАВА ПРЕСЕЦА КРИВУ ЛИНИЈУ У ДВЕ ТАЧКЕ
- *ТРЕЋА ПРАВА ПРЕСЕЦА КРИВУ У ТРИ ТАЧКЕ



☆ ТАЧКЕ ПРЕСЕКА ПРАВИХ ЛИНИЈА ОЗНАЧИ КРУЖИЋЕМ И ОБЕЛЕЖИ СЛОВОМ.

